

Model Question Paper

Periodic Test- II

Class : IV

Subject : English

Time : $1\frac{1}{2}$ Hours

Full Marks : 40

Group-A (15 Marks)

1. Read the passage carefully and choose the correct answer :

$2 \times 5 = 10$

The monkey is in a cage. A boy gives it a sweet. It opens the paper. There is a stone inside. It feels sad.

- (a) The monkey is in _____. (a forest/ a cage)
- (b) The boy gives it _____. (a sweet /a chocolate)
- (c) The monkey opens the _____. (paper/pen)
- (d) Inside there is a _____. (stone/cake)
- (e) The monkey feels _____. (sad/happy)

2. Match the Column A with Column B :

$1 \times 5 = 5$


Column A

Column- B

- (a) A milkman



- (b) A Doctor



- (c) A Policeman



- (d) A teacher



- (e) A driver



Group-B (10 Marks)

3. Choose the correct answer :

$1 \times 2 = 2$

- (a) What is a pony?-

(i) a baby dog (ii) a baby horse (iii) a baby cat

- (b) Who held out a sheaf of green grass to the milkman's cow-

(i) a policeman (ii) a wrestler (iii) a little boy.

4. Answer the following questions (With in 10 words) :

$1 \times 3 = 3$

(a) Who finally made the cow get up? (Prose- The Milkman's Cow)

(b) What would the child give the donkey? (Poem- The Donkey)

(c) What did the lady do to the Pony? (Poem- I had a little Pony)

5. Write the Past Tense of the following verbs :

$1 \times 5 = 5$

(a) Come = _____

(b) Pull = _____

(c) Pray = _____

(d) Tug = _____

(e) Know = _____

Group- C (15 Marks)

6. Answer the following questions (With in 10-15 words) :

$2 \times 3 = 6$

(a) Why did the cow refuse to get up? (Prose- The Milkman's Cow)

(b) What did he learn about the bird? (Poem- Hiawatha)

(c) Who came to Akbar's court? (Prose- The Scholar's Mother Tongue)

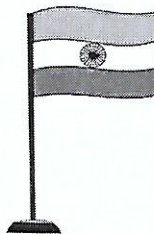
7. Fill in the blanks with correct pronouns :

$1 \times 4 = 4$

Ram was a farmer. _____ (He/She/It) wanted to sell _____ (his/her/my) goats and sheep. So he went to the market. There _____ (he/you/she) sold all _____ (his/your/my) animals to a rich man and got a lot of money.

9. Write a short paragraph on Our National Flag using the following hints-(with in 30 words)

5



[Our National Flag _____ how many colours _____ significance of the colours _____ in the middle of the flag there is _____ we hoist flag on _____ symbol of unity _____ we should respect our National Flag].

Model Question Paper Periodic Test- II

শ্রেণি (Class) : চতুর্থ (IV)
বিষয় (Subject) : গণিত (Mathematics)

সময় (Time) : $1\frac{1}{2}$ Hours

মোট নম্বর (Full Marks) : 40

ক-বিভাগ (Group-A) (15 Marks)

1. নীচের প্রশ্নগুলোর উত্তর দাও (Answer the following questions) :

$2 \times 3 = 6$

(i) ৮৯ এর পরের সংখ্যাটি হল _____ (৮০, ৯০, ৯৯)

The number after 89 is _____ (80, 90, 99)

(ii) $৩ \times ৬ =$ _____ (১৫, ১২, ১৮)

$3 \times 6 =$ _____ (15, 12, 18)

(iii) $১৫ - ০ =$ _____ (১৫, ১০, ১৪)

$15 - 0 =$ _____ (15, 10, 14)

2. নীচের প্রশ্নগুলোর উত্তর দাও (Write the correct number) :

$3 \times 3 = 9$

সঠিক সংখ্যাটি লিখ (Answer the following question)

(i) $২০০ + ৫০ + ৫ =$ (২৬০, ২৭০, ২৫৫)

$200 + 50 + 5 =$ (60, 270, 255)

(ii) ছোটো থেকে বড় সাজাও (Arrange in Ascending order)

উদাহরণ : ১৫, ১১, ১৯

Example : 15, 11, 19

উত্তর : ১১, ১৫, ১৯

Answer : 11, 15, 19

প্রশ্ন : ৩০, ১০, ২০.

Question : 30, 10, 20

(iii) $৩০ \div ৫ =$ _____ (৮, ৬, ৯)

$30 \div 5 =$ _____ (8, 6, 9)

খ-বিভাগ (Group-B) (10 Marks)

3. নীচের প্রশ্নগুলোর উত্তর দাও (Answer the following question) :

$1 \times 4 = 4$

(i) ৪ ভাগের ১ ভাগ লেখা হয় এভাবে—

(a) $\frac{8}{5}$

(b) $\frac{১}{৪}$

(c) $\frac{৩}{৪}$

1 part of 4 is written as.

(a) $\frac{4}{1}$

(b) $\frac{1}{4}$

(c) $\frac{3}{4}$

(ii) $২৭ \div ৩ =$

$27 \div 3 =$

(iii) ১ কেজি এর $\frac{1}{2}$ অংশ = গ্রাম

Half of 1 kg = gm.

(iv) সত্য/মিথ্যা লেখো (Write True/False) :

$\frac{1}{8}$ মিটার = ২৫ সেন্টিমিটার

$\frac{1}{4}$ Metre = 25 Centimetre

4. একটি কুমড়োর $\frac{1}{2}$ ভাগের দাম ১০ টাকা হলে সম্পূর্ণ কুমড়োর দাম কত?

$2 \times 1 = 2$

Cost of half of a pumpkin is Rs. 10 then what will be price of full pumpkin?

5. টিনা ২১ দিন বিদ্যালয়ে যায়নি, কত সপ্তাহ সে বিদ্যালয়ে অনুপস্থিত ছিল?

$4 \times 1 = 4$

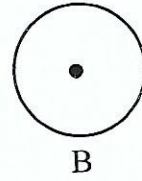
Tina has not gone to school for 21 days. For how many weeks was she away from school?

গ-বিভাগ (Group-C)

6. নীচের প্রশ্নগুলোর উত্তর দাও (Answer the following question) :

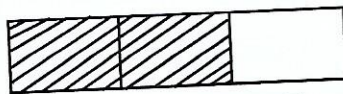
(i) A এবং B বৃত্ত দুটির মধ্যে কোন্টির ব্যাসার্ধ বড়?

Among the circles A and B whose radius is greater?



$1 \times 4 = 4$

(ii) সত্য/মিথ্যা লেখো (Write True/False) :

 = $\frac{2}{3}$ অংশ ($\frac{2}{3}$ part)

(iii) $110 \div 10 =$

$110 \div 10 =$

7. নীচের প্রশ্নগুলোর উত্তর দাও (Answer the following question) :

$4 \times 3 = 12$

(i) কম্পাস ব্যবহার করে দুটি বৃত্ত আঁক। বৃত্ত দুটির কেন্দ্র এবং ব্যাসার্ধ দেখাও।

Using Compass draw two circles. Show the Centre and Radius of the two circles.

(ii) রাজিয়া ৫০০ টাকা খুচরো চায়। সে কয়টি করে নোট পাবে যদি সে নীচে দেওয়া নোট গুলো চায়—

(a) সব কয়টি ১০০ টাকার নোট?

(b) সব কয়টি ৫০ টাকার নোট?

Razia wants change for Rs. 500. How many notes will she get if she wants in return?

(a) All 100 rupee notes?

(b) All 50 rupee notes?

(iii) ২০টি তারার মধ্যে এক-চতুর্থাংশ লাল, তাহলে কতগুলো তারা লাল? কতগুলো লাল নয়?

$2 + 2 = 4$

There are 20 stars. A quarter of them are red. How many stars are red?

Model Question Paper

Periodic Test- II

শ্রেণি (Class) : চতুর্থ (IV)

বিষয় (Subject) : পরিবেশ বিদ্যা (EVS)

সময় (Time) : $1\frac{1}{2}$ Hours

মোট নম্বর (Full Marks) : 40

Group-A

1. চিত্রের পাশে সবজির নাম লেখো (Write the name of vegetables in the answer scripts) : $1 \times 3 = 3$

(a)  = _____

(b)  = _____

(c)  = _____

2. এক কথায় উত্তর দাও (Answer in one word) : $2 \times 3 = 6$

(a) ত্রিপুরার একটি নদীর নাম লেখো।

Name a river of Tripura.

(b) কোন্ পাখী কাকের বাসায় ডিম পাড়ে?

Which bird lays egg in the nest of crow?

(c) তোমার মায়ের ভাই তোমার কি হয়?

How you related to your Mother's borther?

3. নীচের লাইনগুলো পরে উত্তর করো (Read the following Sentences and answer) : $2 \times 3 = 6$

এটা জুলাই মাস। প্রতি বছরের মতো আমার বাবা পেঁয়াজের বীজ বপন করার জন্য খेत প্রস্তুত করছেন। বীজ বপন করার কুড়ি দিন পর বীজগুলি অঙ্কুরিত হয়।

It is the month of July. Like every year, appa, my father, is preparing the field to sow the onion crop.

The seeds started to sprout after twenty days since the seeds were sown.

এক কথায় উত্তর দাও (Answer in one word) :

(a) বাবা কিসের বীজ বপন করার জন্য খेत প্রস্তুত করছেন?

For which seed is be sown, father preparing his field?

(b) কোন্ মাসে পেঁয়াজ বীজ বপন করা হয়?

In which month onion seeds are sown?

(c) _____ দিন পর বীজগুলি অঙ্কুরিত হয়।

After _____ days since the seed were sprout.

খ-বিভাগ (Group-B)

4. A স্তম্ভ এবং B স্তম্ভ মিলিয়ে লেখো (Match the column A & B):

1 × 3 = 3

A	B
(i) লবণ Salt	(i) সব্জি Vegetable
(ii) টমেটো Tomato	(ii) ফুটিয়ে পান করতে হয় Should be drink by boiling it.
(iii) জল Water	(ii) জলে গুলে যায় Dissolve in water.

5. সংক্ষেপে নিম্নলিখিত প্রশ্নগুলির উত্তর দাও (Answer the following questions in short):

2 × 2 = 4

- (i) নন্দিতা মাকে নিয়ে মুম্বাই কার বাড়িতে এসেছিল?

Where did Nandita come along with mother in Mumbai?

- (ii) সপ্তাহের বিভিন্ন দিনে কি খাবার দেবে তার তালিকা কোথায় ঝুলানো থাকে?

Where does a list of food item displayed?

6. সংক্ষেপে উত্তর দাও (Answer the following questions):

3 × 1 = 3

- (i) কীভাবে জল নোংরা হয়?

How does water get polluted or dirty?

গ-বিভাগ (Group-C)

7. এক কথায় উত্তর দাও (Answer in one word):

1 × 3 = 3

- (a) কোথায় বিহু উৎসব পালিত হয়?

Where is the festival of Bihu celebrated?

- (b) মূল কোন্ দিকে বাড়ে?

In which direction did the roots grow?

- (c) গাছে নিয়মিত জল না দিলে কী হবে?

What will happen if nobody gives water to plant?

8. সংক্ষেপে উত্তর দাও (Answer the following questions):

2 × 2 = 4

- (i) বাসব কেন কিছুদিনের জন্য স্কুলে যেতে পারবে না?

Why Basav will not come to school for few days?

- (ii) মৌটুসি কি দিয়ে বাসা তৈরী করে?

How does sunbird make its nest?

9. সংক্ষেপে উত্তর দাও (Answer the following questions in short):

3 × 1 = 3

- (i) প্রবল বাতাস সত্ত্বেও নিমগাছটি ভেঙ্গে পড়েনি কেন?

Why the neem tree did not tall despite?

10. সংক্ষেপে উত্তর দাও (Answer the following questions):

3 + 2 = 5

- (i) বৈশালীর বাবা বাজারে কি কি সবজি নিয়ে যেত? 'ওক' গাছ কোথায় দেখা যায়?

What vegetables used to carry by Baishali's father to the market? Where do you see Oke tree.